



وزارة التربية
إدارة الشؤون التعليمية
مراقبة الامتحانات وشؤون الطلبة



نموذج الإجابة

المرحلة المتوسطة

اختبارات نهاية الفصل الدراسي الأول

المادة: الاجتماعيات

الصف: السابع

العام الدراسي

2016 / 2017



وزارة التربية

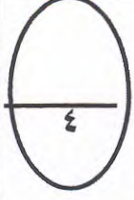
اختبار الفصل الدراسي الاول للصف السابع

الإدارة العامة لمنطقة مبارك الكبير التعليمية لمادة الاجتماعيات

التوجيه الفني للاجتماعيات

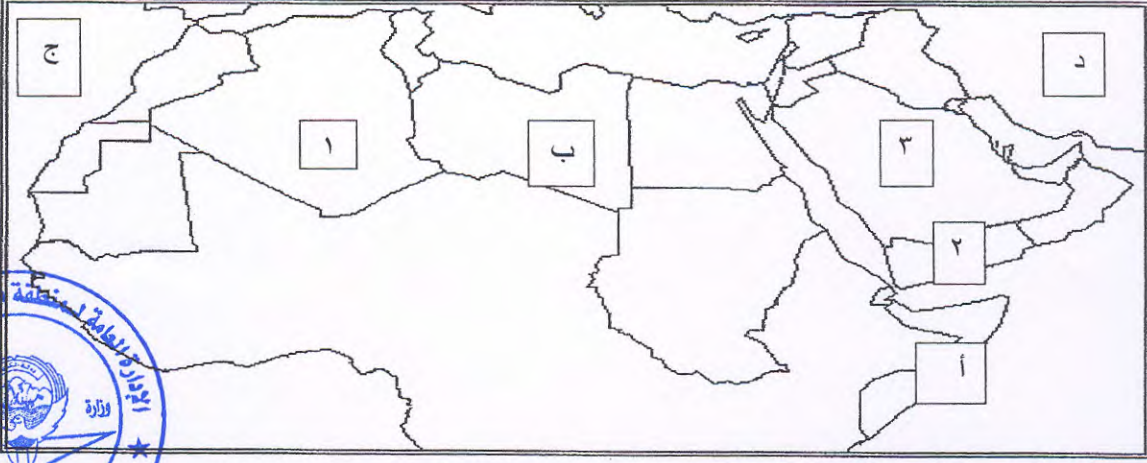
للعام الدراسي (٢٠١٦ م _ ٢٠١٧ م)

عدد الاوراق: ٧



السؤال الأول موضوعي و يتكون من (أ - ب - ج - د - هـ - و) لكل نقطة درجة :

أ / أمامك خريطة الوطن العربي الصماء نفذ ما هو مطلوب :



١- الدولة العربية التي تهب عليها رياح السموم تحمل الرقم ٣ / ص ٣٥

٢- الدولة العربية التي اشتهرت ببناء السدود قديما تحمل الرقم ٢ / ص ٦٤

٣- مسطح مائي يحد دول الوطن العربي من جهة الغرب يحمل الحرف ج ص ٢١

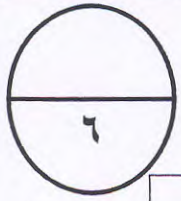
٤- تقع جبال تبستي في دولة عربية تحمل الحرف ب ص ٢٨

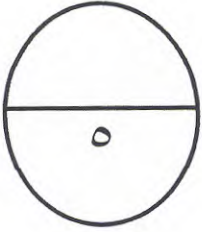


ب/ صنف الكلمات التالية حسب ما هو مطلوب في الجدول :

(الهبوب - باب المنذب - الخماسين - نجد - هرمز - الشطوط)

| | | |
|-----------------------------|----------------------------------|----------------------------------|
| الهضاب ص ٢٨ | الرياح ص ٣٥ | المضائق ص ٢١ |
| <u>نجد</u> <u>الشطوط</u> | <u>الهبوب</u> <u>الخماسين</u> | <u>باب المنذب</u> <u>هرمز</u> |





ج/ اختر الاجابة الصحيحة من بين البدائل التالية :

١/ مسطح مائي تحيط به اليابسة من جميع الاتجاهات يسمى :

(نهر - بحر - بحيرة - خليج) ص ٤٥

٢/ من أشهر ملوك سبأ و ورد ذكرها في القرآن الكريم تسمى :

(زنوبيا - نفرتيتي - كيلوبترا - بلقيس) ص ٦٣

٣/ انضمت جمهورية جزر القمر الى الجامعة العربية عام :

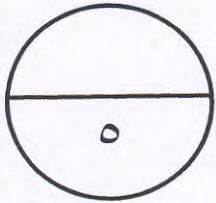
(١٩٩٣ م - ١٩٩٤ م - ١٩٩٥ م - ١٩٩٦ م) ص ١٨

٤/ تقع جبال مرة في دولة عربية تسمى :

(الجزائر - السودان - تونس - العراق) ص ٢٨

٥ / اخترع السومريون نوعا من الكتابة عرفت باسم :

(المسمارية - الأبجدية - الهيروغليفية - الآرامية) ص ٦٠



د / ظلل المربع الذي (لا ينتمي) للمجموعة في كل عبارة مما يلي :

١/ تتنوع ملامح السطح في الوطن العربي فتشمل : ص ٢٧

| | | | |
|------|------|--------|------|
| سهول | هضاب | فوسفات | جبال |
|------|------|--------|------|

٢/ الغابات المدارية الحارة في الوطن العربي تشمل : ص ٣٩

| | | | |
|---------|-------|------------|-------|
| الصنوبر | التاك | الماهو جني | الساج |
|---------|-------|------------|-------|

٣/ أهم الحضارات التي قامت في بلاد الرافدين هي : ص ٥٨

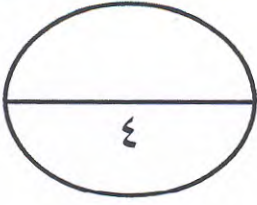
| | | | |
|------------|-----------|-----------|------------|
| الكلدانيون | البابليون | السومريون | الفينيقيون |
|------------|-----------|-----------|------------|

٤/ عناصر المناخ هي : ص ٣٤

| | | | |
|---------|----------|-------------|--------------|
| الرطوبة | التضاريس | الضغط الجوي | درجة الحرارة |
|---------|----------|-------------|--------------|

٥/ مصادر المياه في الوطن العربي هي : ص ٤٤

| | | | |
|---------|---------|--------|--------|
| الأنهار | الأمطار | البحار | الرياح |
|---------|---------|--------|--------|

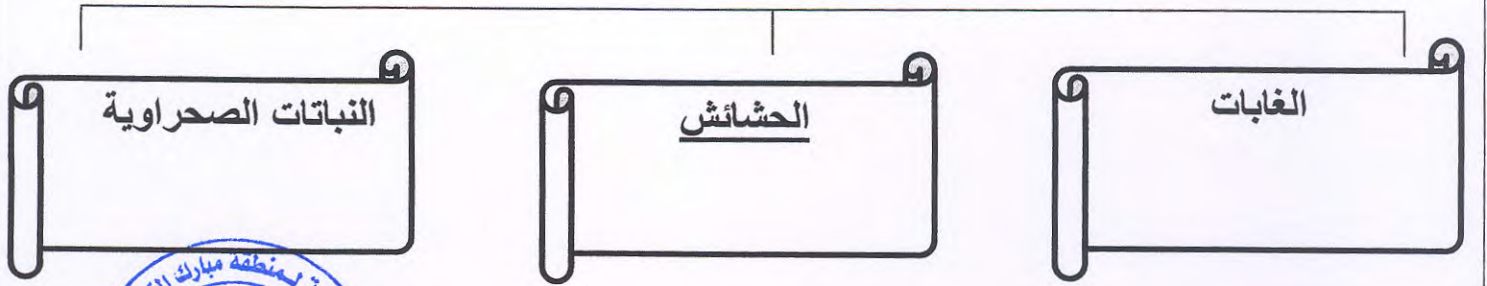


هـ / أكمل المخططات السهمية التالية :

١ / طرق انتقال الحضارة العربية الإسلامية الى قارة أوروبا ص ٦٩



٢ / الحياة النباتية في الوطن العربي ص ٣٩

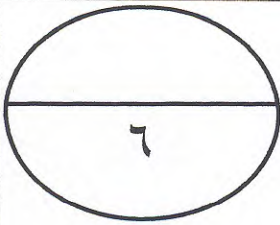


٣ / مقومات الهوية العربية ص ٢٠



٤ / أشكال المياه الجوفية ص ٤٦





و / لاحظ الصور و الرسومات التالية ثم أجب عما يلي :

١ / أمامك كلمات متقاطعة اشطب الكلمات التالية (طقس- نهر-

رياح- نبات)

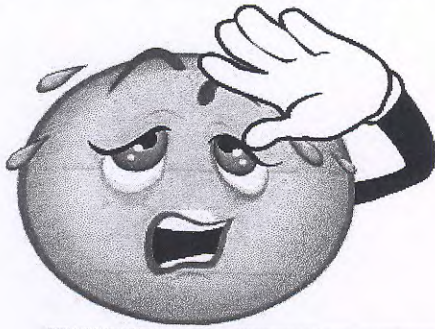
للتوصل الى الاجابة ،،

و هي تمثل عاصمة جمهورية جزر القمر موروني ص ١٨

| | | | | |
|---|---|---|----|---|
| م | ر | ي | ا | ح |
| ط | و | ن | هـ | ر |
| ق | ر | و | ن | ي |
| س | ن | ب | ا | ك |



٢ / اشتهرت حضارة دلمون بصناعة الأختام ص ٦٦




٣ / عنصر من عناصر المناخ في الوطن العربي

يسمى درجة الحرارة ص ٣٤



٤ / أول هرم تم بنائه في تاريخ الحضارة المصرية

القديمة يسمى هرم سقارة المدرج ص ٥٦



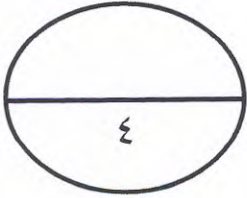
٥ / ممر مائي ضيق يصل بين البحر المتوسط

و المحيط الأطلسي يسمى مضيق جبل طارق ص ٢١



٦ / ملك بابلي احتوت شريعته على مبدأ السن بالسن

و العين بالعين يسمى حمورابي ص ٦٠



السؤال الثاني مقال و يتكون من (أ - ب) لكل نقطة درجة :

أ / عرف المفاهيم التالية :

١ / سهول فيضية: ص ٣١

هي الأراضي المنخفضة التي تكونت من التربة التي حملتها الأمطار .

٢ / قناة : ص ٢١

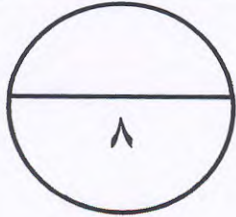
مجرى مائي صناعي ضيق يشق لأغراض الري أو النقل .

٣ / نبات الطبيعي : ص ٣٨

هو ذلك النبات الذي ينمو تلقائيا لسقوط الأمطار دون ان يتدخل الانسان في نموه

٤ / أوال : ص ٦٦

اسم اطلق على البحرين في مرحلة النفوذ الفارسي نسبة الى صنم اسمه اوال كانت تعبده
قبيلة وائل التي حكمت البحرين آنذاك .



ب / اكتب نقطتين فيما يلي :

١ / خصائص مقاومة النباتات الصحراوية للجفاف في الوطن العربي . ص ٤٠

ان تكون ذات جذور طويلة تصل الى اعماق التربة حيث المياه الباطنية مثل النخيل / أن تكون
لها قدرة على خزن المياه في بعض اجزائها مثل التين الشوكي / قسم منها يخزن المياه في
سيقانه و جذوره مثل الصبار/ بعضها يحمي نفسه بلحاء سميك و اوراق ابرية او شمعية

٢ / عوامل قيام الحضارة في بلاد الرافدين . ص ٥٨

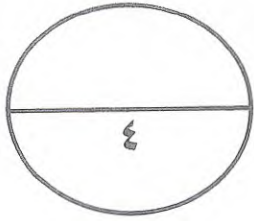
موقع ممتاز / خصوبة التربة / وفرة المياه العذبة

٣ / صفات الأمطار في الوطن العربي . ص ٤٥

تذبذب كمية الامطار بين عام و اخر و تسقط في ايام معدودة / الامطار في الوطن العربي
تقتصر على الاطراف الشمالية و الجنوبية / تتصف الامطار بانها قليلة و لا يستثنى منها سوى
المناطق التي تقع ورائها الجبال

٤ / العوامل التي تؤثر في مناخ الوطن العربي . ص ٣٤

الموقع بالنسبة لدوائر العرض / القرب او البعد عن المسطحات المائية / التضاريس / الرياح



السؤال الثالث: مقالتي و يتكون من (أ - ب) لكل نقطة درجة

أ / علل لما يأتي (اذكر السبب) :

١ / أطلق على أهل اليمن لقب أسياة التجارة العربية . ص ٦٤

سيطروا على الطرق التجارية و امتدت تجارتهم بين الشمال و الجنوب / كان هناك تبادل تجاري مع الحضارات المجاورة مثل الحضارة المصرية و حضارة بلاد الرافدين .

٢ / يتمتع الوطن العربي بموقع استراتيجي مهم . ص ٢١

يقع في وسط قارات العالم القديم اسيا افريقيا و اوروبا / يطل على مسطحات مائية ذات اهمية بالغة في الملاحة و التجارة العالمية / سهولة الاتصال

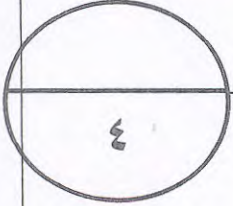


٣ / تعتبر حضارة دلمون مركزا مهما للمواصلات البحرية . ص ٦٦

بحكم موقعها وسط الخليج العربي

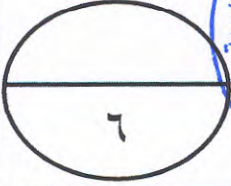
٤ / تنوع النبات الطبيعي في الوطن العربي . ص ٣٨

نوع التربة / المناخ : نتيجة لاختلاف درجات الحرارة و لاختلاف كمية الامطار و موسمها .



ب / قارن بين كل من حشائش السافانا و نباتات الاستبس من حيث : ص ٤٠

| وجه المقارنة | حشائش السافانا | نباتات الاستبس |
|----------------|---|---|
| المفهوم | <u>هي حشائش طويلة تربي عليها الماشية</u> | <u>هي اعشاب قصيرة نوعا ما و يربي عليها الاغنام و الماعز و الخيول و الابل و الحمير</u> |
| مناطق انتشارها | <u>جنوب و وسط السودان و و الصومال و جيبوتي و اجزاء من موريتانيا و اليمن</u> | <u>المغرب و تونس و الجزائر و ليبيا و سوريا و شمال العراق و لبنان و فلسطين و مرتفعات عمان و اجزاء من اليمن</u> |



السؤال الرابع: مقالتي و يتكون من (أ - ب) لكل نقطة درجة

أ / قارن بين خطوط الطول و دوائر العرض من حيث : ص ٢٢

| وجه المقارنة | خطوط الطول | دوائر العرض |
|--------------|---|---|
| المفهوم | هي خطوط وهمية ترسم على الكرة الارضية و تقسمها الى شرقي و غربي | هي خطوط وهمية ترسم على الكرة الارضية و تقسمها الى شمالي و جنوبي |
| العدد | ٣٦٠ | ١٨٠ |
| الأهمية | معرفة التوقيت الزمني في انحاء العالم | معرفة احوال المناخ في العالم |



ب / أقرأ الفقرة التالية ثم أجب عما يلي :

((تعد الحضارة المصرية من الحضارات القديمة في العالم و الاكثر أثارا ، و هناك عوامل كثيرة ساعدت على قيام الحضارة في مصر منها الموقع الجغرافي لمصر و نهر النيل الذي ربط اجزاء البلاد و اعتدال المناخ و جفافه.))

١/ فسر ما تحته خط : ص ٥١

حضارة: كل ما يطرأ على المجتمع من تقدم و تطور و رقي في جميع نواحي الحياة الدينية و السياسية و الاقتصادية و الاجتماعية و الفكرية

٢/ عدد العوامل التي ساعدت على قيام الحضارة في مصر . ص ٥٤

الموقع الجغرافي/ نهر النيل /اعتدال المناخ و جفافه / امتداد الصحراء /تنوع الصخور و كثرة المعادن

٣/ علل :اهتمام المصريون القدماء بتحنيط جثث موتاهم.ص ٥٥

اعتقد المصريون القدامى ان الحياة تعود الى الجسم بعد الموت أي انهم اعتقدوا في البعث و الخلود

(مع تمنياتنا لكم بالنجاح)